

成都工贸职业技术学院 2022 年单独招生考试

综合素质及专业技能测试试题（中职试卷）（A 卷）

（公共管理与服务类、财经商贸类、教育类、旅游服务类学生适用）

第一部分 综合素质

一、单项选择题（共 44 题，1-32 题，每题 3 分，33-44 题，每题 2 分。请将正确答案的序号填入对应的机读卡内。）

- 25、26、28、31、()
A. 35 B. 36 C. 38 D. 45
- 8、9、7、8、6、7、5、()
A. 5 B. 6 C. 7 D. 8
- 时钟 6 点敲 6 下，10 秒钟敲完，12 点敲 12 下需要几秒 ()
A. 12 B. 22 C. 24 D. 20
- 办公室中有大、中、小三种型号文件袋共 200 个，已知大号文件袋的数量是中号文件袋的两倍，小号文件袋的数量是 50 个，那么大号文件袋有多少个 ()
A. 50 B. 60 C. 80 D. 100
- 小刚、爸爸、爷爷三代人的年龄之和是 98，三代人的年龄差为每一代至少 25 岁，三代人的年龄为整数，小刚的最大年龄为几岁 ()
A. 4 B. 5 C. 6 D. 7
- 某商店实行促销手段，凡购买价值 200 元以上的商品可以优惠 20%，那么用 300 元钱在该商店最多可买价值多少元的商品 ()
A. 360 元 B. 384 元 C. 375 元 D. 420 元
- 由 1、2、3、4 可以组成多少个没有重复数字的三位数 ()
A. 8 B. 12 C. 18 D. 24
- 开学后小王决定认真学习英语，他从 10 月 1 日开始每天背英语单词，以每天比前一天多背一个的数量依次增加，已知该月 15 号这一天小王共背了 20 个单词，问 10 月份小王一共背了多少个单词 ()
A. 600 B. 620 C. 300 D. 310
- 填入横线处最恰当的一项是 ()
地球生物圈是自然界经过长期_____形成的，它是人类生命活动的基础。
A. 演化 B. 演变 C. 变化 D. 改变
- 填入横线处最恰当的一项是 ()
终身教育改变了学校教育的功能，毕业证的获得并不意味着学习的_____。
A. 终止 B. 中止 C. 停止 D. 止步
- 填入横线处最恰当的一项是 ()
本地区多处山洪_____，空前的泥石流灾害使人民生命财产蒙受巨大损失。
A. 爆发 B. 暴发 C. 迸发 D. 发作

准考证号

姓名

12. 依次填入下列横线处的词语, 恰当的一项是 ()
 不管是修缮____是重建, 对于文化遗迹来说, 要义在于保存。圆明园废墟是北京城最有历史感的文化遗迹之一, ____把它完全铲平, 造一座崭新的圆明园, 多么得不偿失。
 A. 或 即使
 B. 还 即使
 C. 还 如果
 D. 或 如果
13. 依次填入下列横线处的词语, 恰当的一项是 ()
 这个群岛位于地中海西部一个____的自然环境之中, 虽然岛屿之间自然风景相似, 但都____着各自独特的文化传统。
 A. 巧夺天工 流行
 B. 巧夺天工 保留
 C. 得天独厚 流行
 D. 得天独厚 保留
14. 依次填入下列横线处的词语, 恰当的一项是 ()
 远方山边的牧民帐篷上, 升起了____青烟, 一群群牛羊如星星般____在翠绿的草原上。
 A. 悠悠 点缀
 B. 袅袅 连缀
 C. 悠悠 连缀
 D. 袅袅 点缀
15. 依次填入下列横线处的词语, 恰当的一项是 ()
 木船在风浪中剧烈地摇晃着, 那人却稳稳地站立着, 就像一个____的骑士, 骑在一匹____的野马上, 任凭野马狂奔, 他却____。
 A. 技艺高超 横行无忌 一往无前
 B. 英勇无畏 横冲直撞 如虎添翼
 C. 勇往直前 狂放不羁 绝不妥协
 D. 身怀绝技 桀骜不驯 泰然自若
16. 下列各句中划线成语使用不正确的一项是 ()
 A. 这两支青年足球队旗鼓相当, 比赛进行得非常激烈。
 B. 大佛湾的上万尊雕像居然无一雷同, 这在中国石窟艺术中绝无仅有。
 C. 为了改变经济困难的现状, 老李不得明珠暗投, 开始四处打工。
 D. 卢梭晚年写的《忏悔录》成为世界文学史上别具一格的名著。
17. 下列各句中划线成语的使用不正确的一项是 ()
 A. 水稻栽培、劳动保障、小额贷款是农民最感兴趣的问题, 咨询台被围得水泄不通。
 B. 这里的葡萄因皮薄、色艳、肉厚闻名遐迩, 即可生吃又能酿酒, 深受消费者青睐。
 C. 在网络空间里, 众星捧月式的文化不一定是美的, 曲高和寡式的文化不一定是丑的。
 D. 近来, 移动电源突然冒烟爆炸的事件屡试不爽, 一些劣质充电宝俨然成了小炸弹。
18. 所谓“龙生九子, 九子不同”, 不同地区、不同品种、不同地理和气候条件下生产出来的茶叶, 口味、香型、质地都有所不同, 于是茶叶又缓慢地被分为上、中、下品。这段文字表述的主要意思是 ()
 A. 由于诸多生产条件不同, 所以茶叶的质量和等级也不同
 B. 茶叶的等级不同是由于品种不一样
 C. 不同地区生产的茶叶的口味、香型、质地都不同
 D. 茶叶有不同的等级

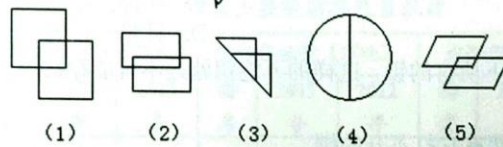
19. 在社会生活中，人的角色支配了我们的感知，我们的注意力常常被人们日常的活动所吸引，往往缺乏对角色之外人的内心深处的了解，因而在一些看似深刻的关于人的认识中不免存在着基于表面化或主观化的观点。

这段文字直接支持的观点是 ()

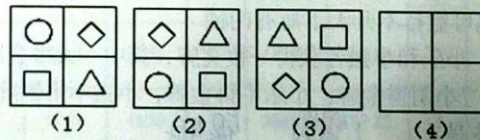
- A. 在社会生活中，人们都要充当各式各样的角色
 B. 我们在社会中的认识是建立在对各种角色的理解之上的
 C. 缺乏对角色之外人的了解，就会产生主观化或表面化认识
 D. 避免角色的影响，才能对社会中的人有更客观深刻的了解
20. 假若城市的教育资源能够在不同学校之间公平分配，那么就on不会出现重点校与普通校的区别，也不会有一些教师因教育资源的过度聚集而“暴富”。假若教育资源在地域之间得到公平分配，边远地区的山村学校能获得更多的投入，那么，乡村教育就不会如此艰难。

这段文字主要谈论的是 ()

- A. 教育资源的公平化
 B. 教师收入的两极化
 C. 教育资源分配的地域差距化
 D. 学校划分的等级化
21. 下列图形中与其它不同类型的是 ()




- A. (1) B. (2) C. (3) D. (4)
22. 请从所给四个选项中选择最合适的一个填入(4)处，使之呈现一定的规律性 ()

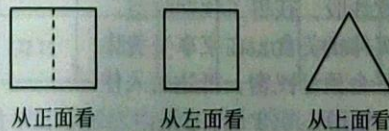


- A. B. C. D.

23. 请从所给四个选项中选择最合适的填入问号处，使之呈现一定的规律性 ()

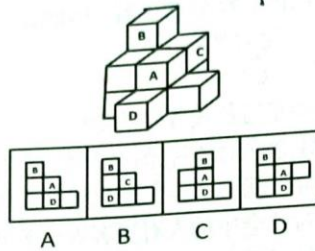


24. 下图是从不同的方向观察到某几何体的形状图，则该几何体是 ()



- A. 长方体 B. 三棱柱 C. 圆锥 D. 正方体

25. 下面四个选项中，题干图形的正面平视图是 ()



26. 与“园丁：剪枝”这一类比相似的是 ()
- A. 歌手：歌词
B. 母亲：做饭
C. 厨师：扫地
D. 记者：采访
27. 与“根深：叶茂”这一类比相似的是 ()
- A. 冰清：玉洁
B. 唇亡：齿寒
C. 同甘：共苦
D. 得寸：进尺
28. 天平对于____，相当于____对于神圣 ()
- A. 称量 耶稣
B. 公平 十字架
C. 克 教堂
D. 计量 忏悔
29. 一把钥匙能打开天下所有的锁，这样的万能钥匙是不可能存在的，对这句话理解正确的是 ()
- A. 任何钥匙都必然有它打不开的锁
B. 至少有一把钥匙必然打不开天下所有的锁
C. 至少有一把锁天下所有的钥匙都必然打不开
D. 至少有一把钥匙可能打不开天下所有的锁
30. 英语竞赛后，小明、小乐和小强各获得一枚奖牌，其中一人得金牌，一人得银牌，一人得铜牌。老师猜测：“小明得金牌，小乐不得金牌，小强不得铜牌。”结果老师只猜对了二个，那么金牌得主是 () 银牌 银牌
- A. 小明
B. 小敏
C. 小乐
D. 小强
31. 某单位需选派人员参加对口扶贫工作。已知：如果小李不参加，那么就小马参加；如果小马不参加，那么小李也不参加；要么小马参加，要么小李参加。下面各项中，符合要求的是 ()
- A. 小马参加对口扶贫
B. 小李参加对口扶贫
C. 小马、小李都参加对口扶贫
D. 小马、小李都不参加对口扶贫
32. 共享经济指借助网络第三方平台，基于闲置资源使用权的暂时性转移，实现生产要素的社会化，提高存量资产的使用效率以创造更多价值，促进社会经济的可持续发展。根据上述定义，下列不属于共享经济的是 ()
- A. 王某从某网络平台订车去飞机场，方便快捷
B. 李某从某网络平台贷款炒股，获得了预期收益
C. 张某从某网络平台购买外卖美食，在家享受美味
D. 马某旅行前从某网络平台预订民宿，抵达后入住
33. 峨眉山位于我国哪个省 ()
- A. 山西
B. 四川
C. 安徽
D. 浙江

34. 中国古代四大发明是 ()
- A. 造纸术、瓷器、指南针、火药
B. 造纸术、印刷术、指南针、火药
C. 造纸术、印刷术、炼金术、火药
D. 造纸术、印刷术、指南针、毛笔
35. “火把节”是以下哪个民族的传统节日 ()
- A. 傣族
B. 布衣族
C. 彝族
D. 朝鲜族
36. 我国改革开放的总设计师是 ()
- A. 毛泽东
B. 方志敏
C. 江泽民
D. 邓小平
37. 黄梅戏是哪个省的地方戏 ()
- A. 安徽
B. 湖南
C. 浙江
D. 福建
38. 下面各地区被列为我国直辖市的是 ()
- A. 重庆
B. 河南
C. 武汉
D. 南昌
39. “飞流直下三千尺”，这句诗是李白赞誉哪座山的瀑布 ()
- A. 庐山
B. 黄山
C. 太白山
D. 华山

根据以下资料，回答 40-44 题。

表 2013 年我国主要机场吞吐量统计

机场	旅客吞吐量 (百万人)			货邮吞吐量 (万吨)			起降架次 (万次)		
	排名	2013 年	2012 年	排名	2013 年	2012 年	排名	2013 年	2012 年
全国		754.31	679.77		1258.51	1199.40		731.54	660.32
北京首都	1	83.71	81.93	2	184.37	179.99	1	56.78	55.72
广州白云	2	52.45	48.31	3	130.97	124.88	2	39.44	37.33
上海浦东	3	47.19	44.88	1	292.85	293.82	3	37.12	36.17
上海虹桥	4	35.60	33.83	6	43.51	42.98	7	24.39	23.49
成都双流	5	33.44	31.60	5	50.14	50.80	6	25.05	24.27
深圳宝安	6	32.27	29.57	4	91.35	85.49	4	25.74	24.01
昆明长水	7	29.69	23.98	9	29.36	26.23	5	25.55	20.13
西安咸阳	8	26.04	23.42	15	17.89	17.48	8	22.60	20.44
重庆江北	9	25.27	22.06	11	28.01	26.86	9	21.46	19.33
杭州萧山	10	22.11	19.12	7	36.81	33.84	11	19.06	16.63

40. 2013 年，货邮吞吐量和起降架次均排在前十的机场有 ()
- A. 9 个
B. 10 个
C. 7 个
D. 8 个

41. 2013年,各机场旅客吞吐量最高比最低多()
 A. 50.4百万人 B. 61.6百万人 C. 67.8百万人 D. 70.1百万人
42. 以下机场,2013年比2012年货邮吞吐量变化幅度最大的是()
 A. 昆明长水 B. 杭州萧山 C. 重庆江北 D. 深圳宝安
43. 2012年,起降架次排名前两位的机场的是()
 A. 北京首都和广州白云 B. 北京首都和上海浦东
 C. 上海浦东和上海虹桥 D. 上海浦东和深圳宝安
44. 2013年全国机场旅客吞吐量与2012年全国机场旅客吞吐量相比()
 A. 少70.54百万人 B. 少74.54百万人
 C. 多70.54百万人 D. 多74.54百万人

第二部分 专业技能

一、单项选择题(共20题,45-64题,每题3分。请将正确答案的序号填入对应的机读卡内。)

45. 以下几组商品中,属于替代关系的组合是()
 A. 汽车与汽油 B. 牛肉与羊肉 C. 打印机与墨盒 D. 相机与胶卷
46. 在其他因素不变的情况下,汽油的价格上涨,会导致市场上对汽车的需求量()
 A. 上升 B. 下降 C. 不变 D. 先上升后下降
47. 如果消费者消费2个面包获得的总效用是100,消费3个面包获得的总效用是106,则消费者消费第3个面包的边际效用是()。
 A. 6 B. 100 C. 106 D. 无法判断
48. 2021年中国提出“双碳”减排目标,承诺2030年前二氧化碳达到峰值,努力争取2060年前实现碳中和。为此我国必须推动能源革命,减少化石能源的使用。以下能够减少汽油消费量的措施是()
 A. 降低汽车的价格 B. 降低汽油的价格
 C. 提高人们的收入水平 D. 大力发展公共交通
49. 人民币的发行权属于()
 A. 中国工商银行 B. 中国农业银行
 C. 中国人民银行 D. 中国建设银行
50. 市场上有无数的买者和卖者,提供的产品是相同的,企业可以自由地进入或退出市场,具有以上特点的市场结构是()
 A. 完全竞争市场 B. 完全垄断市场
 C. 寡头垄断市场 D. 垄断竞争市场
51. “成都的电动汽车市场很大”,下列表述中最能体现这句话在市场营销中含义的是()
 A. 成都市有生产电动汽车的地方
 B. 成都市有卖电动汽车的地方
 C. 成都市有几个全国最大的电动汽车销售市场
 D. 成都市电动汽车的现实买主和潜在买主很多

52. 某企业对自己生产的产品定价“99.8元”、“98.5元”等这样的价格，而不是一个整数，这是为了让消费者感觉产品（ ）
- A. 质量很好 B. 价格便宜 C. 随便定价 D. 方便算账
53. 为使广大消费者可以随时随地购买到饮料，饮料公司通常采用的分销策略是（ ）
- A. 密集性分销 B. 选择性分销 C. 独家分销 D. 混合分销
54. 某公司在河南水灾后捐款 5000 万元，引起很多网友自发宣传，将该公司顶到了热搜榜第一，并引发媒体竞相报道。该营销传播行为属于（ ）
- A. 广告 B. 销售促进 C. 公共关系 D. 人员推销
55. 某公司有清洁剂、牙膏、香皂三条产品线，其中清洁剂产品线有 4 种产品，牙膏产品线有 2 种产品，香皂产品线有 5 种产品，则该公司产品组合的宽度是（ ）
- A. 3 B. 5 C. 11 D. 33
56. 会计是以（ ）作为主要计量单位，运用专门的方法，对经济活动进行核算和监督的一种管理活动。
- A. 实物 B. 劳动耗费 C. 货币 D. 工时
57. 某电影院对 12 岁以下的学生实行 5 折优惠门票，对 65 岁以上的老人免票，对其他普通观众全票，这种差别定价策略属于按（ ）
- A. 时间差别定价 B. 渠道差别定价
C. 顾客细分定价 D. 产品规格与形象差别定价
58. 类似牙膏、洗发水这样的日用消费品，适合选择（ ）媒介做广告。
- A. 人员 B. 专业杂志 C. 电视 D. 公共关系
59. “活到老学到老”体现了现代教育（ ）的特点。
- A. 大众性 B. 公平性 C. 终身性 D. 未来性
60. 以下现象中，属于教育范畴的是（ ）
- A. 爸爸针对小明懦弱的个性设法训练小明如何以牙还牙报复欺侮者
B. 妈妈指导小明在与他人冲突中如何保护自己
C. 老师严格管理以保护小明等弱小学生不再受欺负
D. 小明在与同学的多次冲突中逐渐学会了如何与人和睦相处
61. 托尔斯泰说：“如果一个教师把热爱事业和热爱学生结合起来，他就是一个完美的教师”。这意味着教师需要（ ）
- A. 关心学生、了解学生 B. 尊重学生、信任学生
C. 严格要求学生，对学生一视同仁 D. 把热爱事业与热爱学生结合起来
62. 下列选项中，不属于教师走姿基本要求的是（ ）
- A. 跨步均匀，步伐稳健，步履自然，有节奏感
B. 尽量不弯腰驼背
C. 抬头、直颈、下颏微向后收
D. 上体正直，抬头，两眼平视
63. 对童年期的学生来说，在教学内容上多讲一些比较具体的、浅显的知识，在教学方式上多采用直观教具。这体现了教育要适应儿童身心发展的（ ）
- A. 稳定性 B. 阶段性 C. 不平衡性 D. 个别差异性

64. “秀才不出屋，能知天下事”，该说法道出了教学过程中必须以（ ）为主要的道理。

- A. 传授书本知识
- B. 组织学生活动
- C. 通过实践获得经验
- D. 学生经历生活经验

二、判断题（共 10 题，1-10 题，每题 2 分。请将正确答案填入对应的机读卡内。）

1. 稀缺性是指人类的欲望与可用的经济资源相比总是显得不足。（ ）
2. 物价上升就是通货膨胀。（ ）
3. 无论哪个行业，企业的规模都是越大越好。（ ）
4. 从营销的角度看，市场就是商品买卖的场所。（ ）
5. 市场营销就是推销和广告。（ ）
6. 企业向银行借款并存入银行，这项业务会引起企业的资产和负债同时增加。（ ）
7. 从广义上说，凡是能够影响和促进儿童身体成长和认知、情感、意志、性格和行为等方面发展的活动，如做家务、参加社会活动等，都可说是教育。（ ）
8. 教育是指对人传授知识经验、训练技能技巧、培养能力及良好习惯、塑造人格的一种社会活动。（ ）
9. 在自由活动中，教师应让活泼外向的幼儿成为活动的组织者，而内向的幼儿由于能力有限，不建议他们去组织活动，以免影响活动效果。（ ）
10. 游戏中，要为学前儿童多提供完全陌生和十分复杂的游戏材料。（ ）

答案 A 卷（综合素质及专业技能测试试题）

（公共管理与服务类、财经商贸类、教育类、旅游服务类学生适用）

第一部分 综合素质

一. 单选题（44 题，共 120 分。1-32 题，每题 3 分，33-44 题，每题 2 分。）

1	2	3	4	5	6	7	8	9	10
A	B	B	D	D	C	D	B	A	A
11	12	13	14	15	16	17	18	19	20
B	C	D	D	D	C	D	A	C	A
21	22	23	24	25	26	27	28	29	30
D	A	A	B	A	D	B	B	A	C
31	32	33	34	35	36	37	38	39	40
A	C	B	B	C	D	A	A	A	C
41	42	43	44						
B	D	A	D						

第二部分 专业技能

一. 单选题 (20 题, 共 60 分。45-64 题, 每题 3 分。)

45	46	47	48	49	50	51	52	53	54
B	B	A	D	C	A	D	B	A	C
55	56	57	58	59	60	61	62	63	64
A	C	C	C	C	B	D	C	B	A

二. 判断题 (10 题, 共 20 分。1-10 题, 每题 2 分。)

1	2	3	4	5	6	7	8	9	10
√	×	×	×	×	√	√	√	√	×